

ПРОЕКТ

**Государственная итоговая аттестация по образовательным
программам основного общего образования в форме основного
государственного экзамена (ОГЭ)**

**Демонстрационный вариант
контрольных измерительных материалов
для проведения в 2020 году основного государственного
экзамена по ХИМИИ**

подготовлен Федеральным государственным бюджетным
научным учреждением

«ФЕДЕРАЛЬНЫЙ ИНСТИТУТ ПЕДАГОГИЧЕСКИХ ИЗМЕРЕНИЙ»

Химия. 9 класс

Демонстрационный вариант 2020 г. - 2 / 19

**Демонстрационный вариант
контрольных измерительных материалов
для проведения в 2020 году основного государственного
экзамена по ХИМИИ**

Пояснения к демонстрационному варианту

При ознакомлении с демонстрационным вариантом контрольных измерительных материалов 2020 г. следует иметь в виду, что задания, включённые в демонстрационный вариант, не отражают всех вопросов содержания, которые будут проверяться с помощью вариантов КИМ в 2020 г. Полный перечень вопросов, которые могут контролироваться на основном государственном экзамене 2020 г., приведён в кодификаторе требований к уровню подготовки выпускников образовательных организаций и элементов содержания для проведения основного государственного экзамена 2020 г. по химии, размещённом на сайте: www.fipi.ru.

Назначение демонстрационного варианта заключается в том, чтобы дать возможность любому участнику ОГЭ и широкой общественности составить представление о структуре будущих КИМ, количестве и форме заданий, об уровне их сложности. Приведённые критерии оценки выполнения заданий с развёрнутым ответом, включённые в этот вариант, дают представление о требованиях к полноте и правильности записи развёрнутого ответа.

Эти сведения позволят выпускникам выработать стратегию подготовки и сдачи ОГЭ по химии в 2020 г.

Демонстрационный вариант

Инструкция по выполнению работы

Экзаменационная работа состоит из двух частей, включающих в себя 24 задания. Часть 1 содержит 19 заданий с кратким ответом, часть 2 содержит 5 заданий с развёрнутым ответом.

На выполнение экзаменационной работы по химии отводится 2 часа 20 минут (140 минут).

Ответы к заданиям 1–19 записываются в виде одной цифры или последовательности цифр. Ответ запишите в поле ответа в тексте работы, а затем перенесите в бланк ответов № 1.

К заданиям 20–23 следует дать полный развёрнутый ответ, включающий в себя необходимые уравнения реакций и расчёты. Задания выполняются на бланке ответов № 2. Задание 24 предполагает выполнение эксперимента под наблюдением учителя.

Все бланки заполняются яркими чернилами. Допускается использование гелевой или капиллярной ручки.

При выполнении работы Вы можете пользоваться Периодической системой химических элементов Д.И. Менделеева, таблицей растворимости солей, кислот и оснований в воде, электрохимическим рядом напряжений металлов и непрограммируемым калькулятором.

При выполнении заданий можно пользоваться черновиком. **Записи в черновике, а также в тексте контрольных измерительных материалов не учитываются при оценивании работы.**

Баллы, полученные Вами за выполненные задания, суммируются. Постарайтесь выполнить как можно больше заданий и набрать наибольшее количество баллов.

После завершения работы проверьте, чтобы ответ на каждое задание в бланках ответов №1 и №2 был записан под правильным номером.

Желаем успеха!

Часть 1

Ответами к заданиям 1–19 являются цифра или последовательность цифр. Укажите ответы сначала в тексте работы, а затем перенесите их в БЛАНК ОТВЕТОВ № 1 справа от номера соответствующего задания, начиная с первой клеточки, без пробелов, запятых и других дополнительных символов. Каждую цифру пишите в отдельной клеточке в соответствии с приведёнными в бланке образцами.

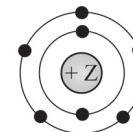
1 Выберите два высказывания, в которых говорится о железе как о химическом элементе.

- 1) Железо реагирует с хлором.
- 2) Железо быстро ржавеет во влажном воздухе.
- 3) Пирит является сырьём для получения железа.
- 4) Гемоглобин, содержащий железо, переносит кислород.
- 5) В состав ржавчины входит железо.

Запишите в поле ответа номера выбранных высказываний.

Ответ:

2 На приведённом рисунке



изображена модель атома

- 1) хлора
- 2) азота
- 3) магния
- 4) фтора

Ответ:

3 В каком ряду химических элементов усиливаются неметаллические свойства соответствующих им простых веществ?

- 1) алюминий → фосфор → хлор
- 2) фтор → азот → углерод
- 3) хлор → бром → иод
- 4) кремний → сера → фосфор

Ответ:

4 В каком соединении степень окисления азота равна +3?

- 1) Na_3N
- 2) NH_3
- 3) NH_4Cl
- 4) HNO_2

Ответ:

5 В молекуле фтора химическая связь

- 1) ионная
- 2) ковалентная полярная
- 3) ковалентная неполярная
- 4) металлическая

Ответ:

6 Какие два утверждения верны для характеристики как магния, так и кремния?

- 1) Электроны в атоме расположены на трёх электронных слоях.
- 2) Соответствующее простое вещество существует в виде двухатомных молекул.
- 3) Химический элемент относится к металлам.
- 4) Значение электроотрицательности меньше, чем у фосфора.
- 5) Химический элемент образует высшие оксиды с общей формулой ЭO_2 .

Запишите в поле ответа номера выбранных утверждений.

Ответ:

7 Из предложенного перечня веществ выберите кислотный оксид и основание.

- 1) CO
- 2) $\text{Mg}(\text{OH})_2$
- 3) SO_2
- 4) NaClO_4
- 5) $\text{Al}(\text{OH})_3$

Запишите в поле ответа сначала номер кислотного оксида, а затем номер основания.

Ответ:

8 Не реагируют друг с другом

- 1) хлор и водород
- 2) кислород и кальций
- 3) азот и вода
- 4) железо и сера

Ответ:

9 В реакцию с оксидом алюминия вступает

- 1) $\text{Cu}(\text{OH})_2$
- 2) HNO_3
- 3) O_2
- 4) $\text{Be}(\text{OH})_2$

Ответ:

10 Установите соответствие между реагирующими веществами и продуктами(-ом) их взаимодействия: к каждой позиции, обозначенной буквой, подберите соответствующую позицию, обозначенную цифрой.

РЕАГИРУЮЩИЕ ВЕЩЕСТВА	ПРОДУКТЫ ВЗАИМОДЕЙСТВИЯ
A) $\text{MgO} + \text{SO}_3 \rightarrow$	1) $\rightarrow \text{MgSO}_3 + \text{H}_2$
Б) $\text{Mg}(\text{OH})_2 + \text{H}_2\text{SO}_4 \rightarrow$	2) $\rightarrow \text{MgSO}_4 + \text{H}_2\text{O}$
В) $\text{Mg} + \text{H}_2\text{SO}_{4(\text{разб.})} \rightarrow$	3) $\rightarrow \text{MgSO}_3 + \text{H}_2\text{O}$
	4) $\rightarrow \text{MgSO}_4 + \text{H}_2$
	5) $\rightarrow \text{MgSO}_4$

Запишите в таблицу выбранные цифры под соответствующими буквами.

Ответ:

А	Б	В

- 11** Установите соответствие между формулой вещества и реагентами, с которыми это вещество может вступать в реакцию: к каждой позиции, обозначенной буквой, подберите соответствующую позицию, обозначенную цифрой.

ФОРМУЛА ВЕЩЕСТВА

- A) NaI
B) Al₂O₃
B) CuCl₂

РЕАГЕНТЫ

- 1) Cl₂, H₂SO₄ (конц.)
2) Mg, AgNO₃ (p-p)
3) KOH, HCl (p-p)
4) N₂, K₂SO₄ (p-p)

Запишите в таблицу выбранные цифры под соответствующими буквами.

Ответ:

А	Б	В

- 12** Из предложенного перечня выберите две пары веществ, между которыми протекает реакция замещения.

- 1) железо и нитрат серебра
2) оксид серы(VI) и оксид железа(III)
3) оксид меди(II) и соляная кислота
4) алюминий и хлор
5) натрий и вода

Запишите в поле ответа номера выбранных пар веществ.

Ответ:

--	--

- 13** Установите соответствие между реагирующими веществами и признаком протекающей между ними реакции: к каждой позиции, обозначенной буквой, подберите соответствующую позицию, обозначенную цифрой.

РЕАГИРУЮЩИЕ ВЕЩЕСТВА

- A) CuCl₂ и NaOH
B) BaCl₂ и AgNO₃
B) FeCl₃ и Ba(OH)₂

ПРИЗНАК РЕАКЦИИ

- 1) выпадение белого осадка
2) выпадение бурого осадка
3) выпадение голубого осадка
4) выделение газа

Запишите в таблицу выбранные цифры под соответствующими буквами.

Ответ:

А	Б	В

- 14** При полной диссоциации 1 моль каких двух из представленных веществ образуется 2 моль анионов?

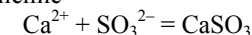
- 1) нитрат магния
2) гидроксид бария
3) хлорид натрия
4) фосфат калия
5) сульфат натрия

Запишите в поле ответа номера выбранных веществ.

Ответ:

--	--

- 15** Сокращённое ионное уравнение



соответствует взаимодействию веществ

- 1) CaO
2) Ca
3) CaCl₂
4) K₂SO₃
5) H₂SO₃
6) SO₂

Запишите в поле ответа номера исходных веществ, взаимодействию которых соответствует приведённое сокращённое ионное уравнение реакции.

Ответ:

--	--

- 16** Установите соответствие между схемой процесса и названием процесса, происходящего в окислительно-восстановительной реакции: к каждой позиции, обозначенной буквой, подберите соответствующую позицию, обозначенную цифрой.

СХЕМА ПРОЦЕССА

- A) S⁻² → S⁰
B) H₂⁰ → 2H⁺
B) Cr⁺⁶ → Cr⁺³

НАЗВАНИЕ ПРОЦЕССА

- 1) окисление
2) восстановление

Запишите в таблицу выбранные цифры под соответствующими буквами.

Ответ:

А	Б	В

- 17** Верны ли суждения о безопасном обращении с химическими веществами?
 А. Разбитый ртутный термометр и вытекшую из него ртуть следует выбросить в мусорное ведро.
 Б. Красками, содержащими соединения свинца, не рекомендуется покрывать детские игрушки и посуду.
- 1) верно только А
 2) верно только Б
 3) верны оба суждения
 4) оба суждения неверны

Ответ:

- 18** Установите соответствие между двумя веществами и реактивом, с помощью которого можно различить эти вещества: к каждой позиции, обозначенной буквой, подберите соответствующую позицию, обозначенную цифрой.

ВЕЩЕСТВА
 А) K_2CO_3 и K_2SiO_3
 Б) K_2CO_3 и Li_2CO_3
 В) Na_2SO_4 и $NaOH$

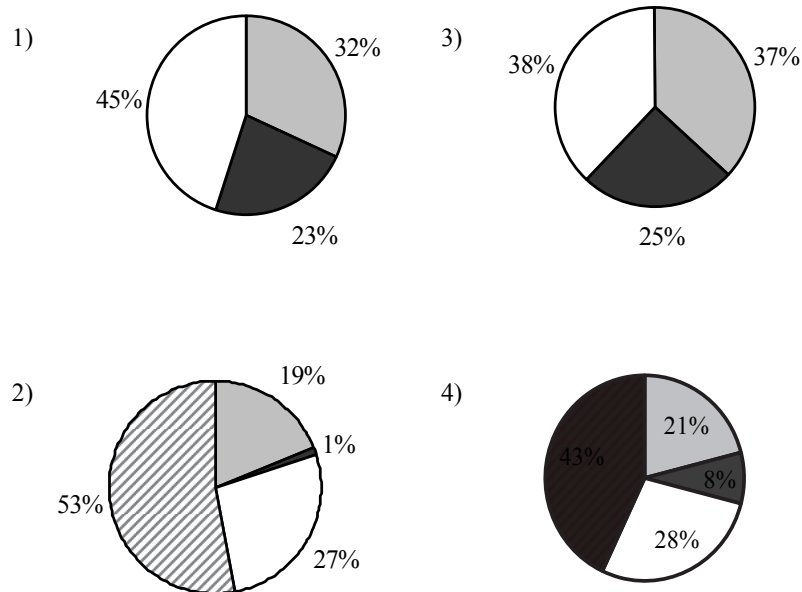
РЕАКТИВ
 1) $CuCl_2$
 2) HCl
 3) MgO
 4) K_3PO_4

Запишите в таблицу выбранные цифры под соответствующими буквами.

Ответ:

А	Б	В
<input type="text"/>	<input type="text"/>	<input type="text"/>

- 19** На какой диаграмме распределение массовых долей элементов соответствует количественному составу фосфата аммония?



Ответ:



Не забудьте перенести все ответы в бланк ответов № 1 в соответствии с инструкцией по выполнению работы. Проверьте, чтобы каждый ответ был записан в строке с номером соответствующего задания.

Часть 2

Для ответов на задания 20–22 используйте БЛАНК ОТВЕТОВ № 2. Запишите сначала номер задания (20, 21 или 22), а затем развёрнутый ответ к нему. Ответы записывайте чётко и разборчиво.

- 20** Используя метод электронного баланса, расставьте коэффициенты в уравнении реакции, схема которой
- $$\text{MnO}_2 + \text{HBr} \rightarrow \text{MnBr}_2 + \text{Br}_2 + \text{H}_2\text{O}$$
- Определите окислитель и восстановитель.

- 21** Дана схема превращений:
- $$\text{Fe}(\text{NO}_3)_2 \rightarrow \text{Fe}(\text{OH})_2 \rightarrow \text{X} \xrightarrow{t^\circ} \text{Fe}_2\text{O}_3$$
- Напишите молекулярные уравнения реакций, с помощью которых можно осуществить указанные превращения. Для первого превращения составьте сокращённое ионное уравнение реакции.

- 22** После пропускания через раствор гидроксида натрия 2,24 л сернистого газа (н.у.) получили 252 г раствора сульфита натрия. Вычислите массовую долю соли в полученном растворе.

Практическая часть

Приступайте к выполнению заданий 23 и 24 после выполнения всех предыдущих заданий. Прочитайте текст и выполните задания 23 и 24. Для ответа на задание 23 используйте БЛАНК ОТВЕТОВ № 2. Запишите сначала номер задания (23), а затем развёрнутый ответ к нему. Ответ записывайте чётко и разборчиво. Задание 24 выполняйте только под наблюдением эксперта-экзаменатора.

Дан раствор сульфата магния, а также набор следующих реактивов: цинк; соляная кислота; растворы гидроксида натрия, хлорида бария и нитрата калия.

- 23** Используя только реактивы из приведённого перечня, запишите молекулярные уравнения двух реакций, которые характеризуют химические свойства сульфата магния, и укажите признаки их протекания.

- 24** Ознакомьтесь с инструкцией по выполнению задания 24, прилагаемой к заданиям КИМ. Подготовьте лабораторное оборудование, необходимое для проведения эксперимента.

Проведите химические реакции между сульфатом магния и выбранными веществами в соответствии с составленными уравнениями реакции, соблюдая правила техники безопасности, приведённые в инструкции к заданию. Опишите изменения, происходящие с веществами в ходе проведённых реакций.



Проверьте, чтобы каждый ответ был записан рядом с правильным номером задания.

Инструкция по выполнению задания 24

Внимание: в случае ухудшения самочувствия перед началом опытов или во время их выполнения обязательно сообщите об этом организатору в аудитории.

- Вы приступаете к выполнению эксперимента.** Для этого получите лоток с лабораторным оборудованием и реактивами у специалиста по обеспечению лабораторных работ в аудитории.
- Прочтите** ещё раз перечень веществ, приведённый в тексте к заданиям 23 и 24, и убедитесь, что на выданном лотке находится пять перечисленных в перечне реактивов.
- Перед началом выполнения эксперимента** осмотрите ёмкости с реактивами и определите способ работы с ними. При этом обратите внимание на рекомендации, которым Вы должны следовать.
 - В склянке находится пипетка.** Это означает, что отбор жидкости и переливание её в пробирку для проведения реакции необходимо проводить только с помощью пипетки. Для проведения опытов отбирают 7–10 капель реактива.
 - Пипетка в склянке с жидкостью отсутствует.** В этом случае переливание раствора осуществляют через край склянки, которую располагают так, чтобы при её наклоне этикетка оказалась сверху («этикетку — в ладонь!»). Склянку медленно наклоняют над пробиркой, пока нужный объём раствора не перельётся в неё. Объём перелитого раствора должен составлять 1–2 мл (1–2 см).
 - Для проведения опыта требуется порошкообразное (сыпучее) вещество.** Отбор порошкообразного вещества из ёмкости осуществляют только с помощью ложечки или шпателя.

- При отборе исходного реактива взят его излишек. Возврат излишка реактива в исходную ёмкость категорически запрещён. Его помещают в отдельную, резервную пробирку.
 - Сосуд с исходным реактивом (жидкостью или порошком) **обязательно закрывается** крышкой (пробкой) от этой же ёмкости.
 - При растворении в воде порошкообразного вещества или при перемешивании реактивов **следует** слегка ударять пальцем по дну пробирки.
 - Для определения запаха вещества взмахом руки над горлышком сосуда с веществом **направляют** пары этого вещества на себя.
 - Для проведения нагревания пробирки с реактивами на пламени спиртовке необходимо:
 - 1) снять колпачок спиртовки и поднести зажжённую спичку к её фитилю;
 - 2) закрепить пробирку в пробиркодержателе на расстоянии 1–2 см от горлышка пробирки;
 - 3) внести пробирку в пламя спиртовки и передвигать её в пламени вверх и вниз так, чтобы пробирка с жидкостью равномерно прогрелась;
 - 4) далее следует нагревать только ту часть пробирки, где находятся вещества, при этом пробирку удерживать в слегка наклонном положении;
 - 5) открытый конец пробирки следует отводить от себя и других лиц;
 - 6) после нагревания жидкости пробиркодержатель с пробиркой поместить в штатив для пробирок;
 - 7) фитиль спиртовки закрыть колпачком.
 - Если реактивы попали на рабочий стол, их удаляют с поверхности стола с помощью салфетки.
 - Если реактив попал на кожу или одежду, необходимо незамедлительно обратиться за помощью к специалисту по обеспечению лабораторных работ в аудитории.
4. Вы готовы к выполнению эксперимента. Поднимите руку и пригласите организатора в аудитории, который пригласит экспертов предметной комиссии для оценивания проводимого Вами эксперимента.
 5. Начинайте выполнять опыт. Записывайте в черновике свои наблюдения за изменениями, происходящими с веществами в ходе реакций.
 6. Вы завершили эксперимент. В бланке ответов № 2 подробно опишите наблюдаемые изменения, которые происходили с веществами в каждой из двух проведённых Вами реакций. Сделайте вывод о химических свойствах веществ (кисотно-основных,

окислительно-восстановительных), участвующих в реакции, и классификационных признаках реакций.



Проверьте, чтобы каждый ответ был записан рядом с правильным номером задания.

Система оценивания работы по химии

Часть 1

Верное выполнение каждого из заданий 1–5, 7–9, 12, 14–17, 19 оценивается 1 баллом.

За полный правильный ответ на каждое из заданий 6, 10, 11, 13, 18 ставится 2 балла; если допущена одна ошибка, то ответ оценивается в 1 балл. Если допущены две и более ошибки или ответа нет, то выставляется 0 баллов.

№ задания	Ответ	№ задания	Ответ
1	45	11	132
2	2	12	15
3	1	13	312
4	4	14	12
5	3	15	34
6	14	16	112
7	32	17	2
8	3	18	241
9	2	19	4
10	524		

Часть 2

Критерии оценивания заданий с развёрнутым ответом

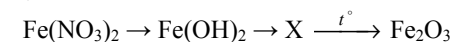
- 20** Используя метод электронного баланса, расставьте коэффициенты в уравнении реакции, схема которой



Определите окислитель и восстановитель.

Содержание верного ответа и указания по оцениванию (допускаются иные формулировки ответа, не искажающие его смысла)	Баллы
<p>Элементы ответа:</p> <p>1) Составлен электронный баланс: $1 \mid \text{Mn}^{+4} + 2\bar{e} \rightarrow \text{Mn}^{+2}$ $1 \mid 2\text{Br}^{-1} - 2\bar{e} \rightarrow \text{Br}_2^0$</p> <p>2) Расставлены коэффициенты в уравнении реакции: $\text{MnO}_2 + 4\text{HBr} = \text{MnBr}_2 + \text{Br}_2 + 2\text{H}_2\text{O}$</p> <p>3) Указано, что MnO_2 (или марганец в степени окисления +4) является окислителем, а HBr (или бром в степени окисления -1) – восстановителем</p>	
Ответ правильный и полный, включает все названные выше элементы	3
Правильно записаны два элемента ответа	2
Правильно записан один элемент ответа	1
Все элементы ответа записаны неверно или отсутствуют	0
<i>Максимальный балл</i>	3

- 21** Дана схема превращений:



Напишите молекулярные уравнения реакций, с помощью которых можно осуществить указанные превращения. Для первого превращения составьте сокращённое ионное уравнение реакции.

Содержание верного ответа и указания по оцениванию (допускаются иные формулировки ответа, не искажающие его смысла)	Баллы
<p>Элементы ответа</p> <p>Написаны уравнения реакций, соответствующие схеме превращений:</p> <p>1) $\text{Fe}(\text{NO}_3)_2 + 2\text{NaOH} = \text{Fe}(\text{OH})_2 + 2\text{NaNO}_3$ 2) $4\text{Fe}(\text{OH})_2 + 2\text{H}_2\text{O} + \text{O}_2 = 4\text{Fe}(\text{OH})_3$ 3) $2\text{Fe}(\text{OH})_3 \xrightarrow{t^\circ} \text{Fe}_2\text{O}_3 + 3\text{H}_2\text{O}$ Составлено сокращённое ионное уравнение первого превращения: 4) $2\text{OH}^- + \text{Fe}^{2+} = \text{Fe}(\text{OH})_2$</p>	
Ответ правильный и полный, включает все названные элементы	4
Правильно записаны три уравнения реакций	3
Правильно записаны два уравнения реакций	2
Правильно записано одно уравнение реакции	1
Все элементы ответа записаны неверно или отсутствуют	0
<i>Максимальный балл</i>	4

- 22** После пропускания через раствор гидроксида натрия 2,24 л сернистого газа (н.у.) получили 252 г раствора сульфита натрия. Вычислите массовую долю соли в полученном растворе.

Содержание верного ответа и указания по оцениванию (допускаются иные формулировки ответа, не искажающие его смысла)	Баллы
Элементы ответа: 1) Составлено уравнение реакции: $\text{SO}_2 + 2\text{NaOH} = \text{Na}_2\text{SO}_3 + \text{H}_2\text{O}$ 2) Рассчитано количество вещества сульфита натрия, полученного в результате реакции: $n(\text{SO}_2) = V(\text{SO}_2) / V_m = 2,24 : 22,4 = 0,1$ моль по уравнению реакции $n(\text{Na}_2\text{SO}_3) = n(\text{SO}_2) = 0,1$ моль 3) Определена массовая доля сульфита натрия в растворе: $m(\text{Na}_2\text{SO}_3) = n(\text{Na}_2\text{SO}_3) \cdot M(\text{Na}_2\text{SO}_3) = 0,1 \cdot 126 = 12,6$ г $\omega(\text{Na}_2\text{SO}_3) = m(\text{Na}_2\text{SO}_3) \cdot 100 : m(\text{р-ра}) = 12,6 \cdot 100 : 252 = 5\%$	
Ответ правильный и полный, включает все названные элементы	3
Правильно записаны два первых из названных выше элементов	2
Правильно записан один из названных выше элементов	1
Все элементы ответа записаны неверно или отсутствуют	0
<i>Максимальный балл</i>	3

Критерии оценивания заданий практической части

Дан раствор сульфата магния, а также набор следующих реактивов: цинк, соляная кислота, растворы гидроксида натрия, хлорида бария и нитрата калия.

- 23** Используя только реактивы из приведённого перечня, запишите молекулярные уравнения двух реакций, которые характеризуют химические свойства сульфата магния, и укажите признаки их протекания.

Содержание верного ответа и указания по оцениванию (допускаются иные формулировки ответа, не искажающие его смысла)	Баллы
Элементы ответа: Составлены уравнения двух реакций, характеризующих химические свойства сульфата магния, и указаны признаки их протекания: 1) $\text{MgSO}_4 + \text{BaCl}_2 = \text{BaSO}_4 + \text{MgCl}_2$ 2) выпадение белого осадка; 3) $\text{MgSO}_4 + 2\text{NaOH} = \text{Mg}(\text{OH})_2 + \text{Na}_2\text{SO}_4$ 4) выпадение белого осадка	
Ответ правильный и полный, содержит все названные элементы	4
Правильно записаны три элемента ответа	3
Правильно записаны два элемента ответа	2
Правильно записан один элемент ответа	1
Все элементы ответа записаны неверно или отсутствуют	0
<i>Максимальный балл</i>	4

- 24** Проведите химические реакции между сульфатом магния и выбранными веществами в соответствии с составленными уравнениями реакции, соблюдая правила техники безопасности, приведённые в инструкции к заданию. Опишите изменения, происходящие с веществами в ходе проведённых реакций.

Содержание верного ответа и указания по оцениванию (допускаются иные формулировки ответа, не искажающие его смысла)	Баллы
Химический эксперимент выполнен в соответствии с инструкцией к заданию 24: <ul style="list-style-type: none"> • отбор веществ проведён в соответствии с пунктами 3–5, 9, 10 инструкции; • смешивание веществ выполнено в соответствии с пунктами 5–10 инструкции 	
Химический эксперимент выполнен в соответствии с правилами техники безопасности	2
Правила техники безопасности нарушены при отборе или смешивании веществ	1
Правила техники безопасности нарушены как при отборе, так и при смешивании веществ	0
<i>Максимальный балл</i>	2
<i>При существенном нарушении правил техники безопасности, эксперт обязан прекратить выполнение эксперимента обучающимся.</i>	

В соответствии с Порядком проведения государственной итоговой аттестации по образовательным программам основного общего образования (приказ Минпросвещения России и Рособрназора от 07.11.2018 № 189/1513 зарегистрирован Минюстом России 10.12.2018 № 52953)

«64. Экзаменационные работы проверяются двумя экспертами. По результатам проверки эксперты независимо друг от друга выставляют баллы за каждый ответ на задания экзаменационной работы... В случае существенного расхождения в баллах, выставленных двумя экспертами, назначается третья проверка. Существенное расхождение в баллах определено в критериях оценивания по соответствующему учебному предмету.

Третий эксперт назначается председателем предметной комиссии из числа экспертов, ранее не проверявших экзаменационную работу.

Третьему эксперту предоставляется информация о баллах, выставленных экспертами, ранее проверявшими экзаменационную работу обучающегося. Баллы, выставленные третьим экспертом, являются окончательными».

Существенным считается расхождение между баллами, выставленными двумя экспертами за выполнение любого из заданий 20–24, в 2 или более балла. В этом случае третий эксперт проверяет только те ответы на задания, которые вызвали столь существенное расхождение.